

Adı :
Soyadı:

2. Sınıf
Hayat Bilgisi

Ülkemizde Hayat
Ülkemiz



GÜZEL ÜLKEM! TÜRKİYE

Yaşadığımız ülkenin adı Türkiye Cumhuriyeti'dir. Dünya'da iki yüzden fazla ülke vardır. Ülkemiz Dünya üzerinde Asya-Avrupa-Afrika kıtalarının birleştiği yerde bulunur. Ülkemizin üç tarafında Karadeniz, Akdeniz ve Ege Denizi bulunur.

Ülkemizin başkenti Ankara'dır. Ülkemizin yönetildiği yer olan Türkiye Büyük Millet Meclisi Ankara'dadır. Türkiye'de 81 il bulunmaktadır. Biz ilinde yaşamaktayız.ilinin komşuları
.....

Aşağıdaki küre ve dünya haritasında ülkemizin yerini bularak kırmızıya boyayınız.

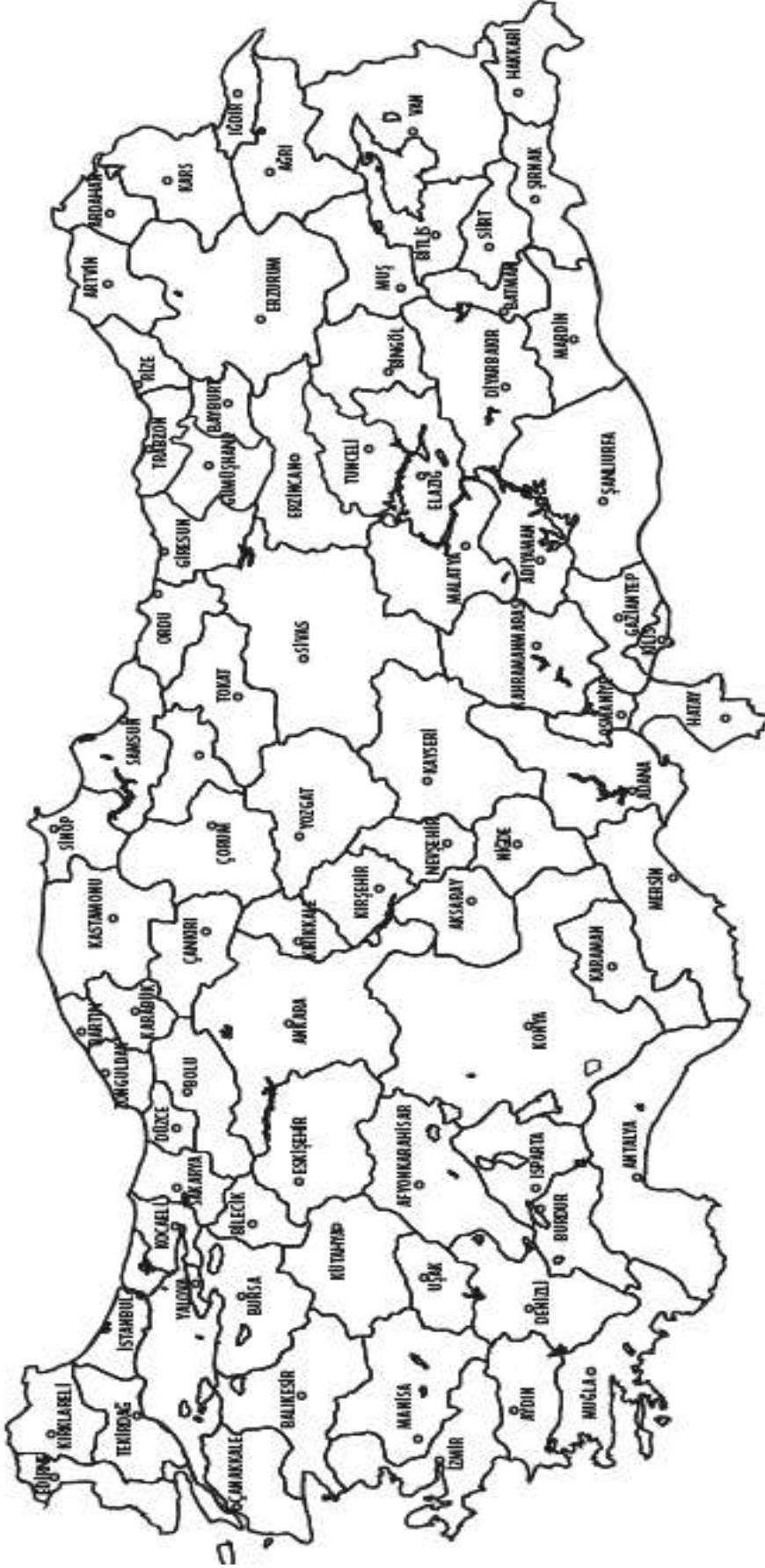


Adı :
Soyadı:

2. Sınıf Hayat Bilgisi

Ülkemizde Hayat Ülkemiz

Aşağıdaki haritada istenen illeri bularak boyayınız.



Yaşadığımız Şehir

Ankara

İstanbul

İzmir

Konya

Adana

Erzurum

Sivas

Antalya

Şanlıurfa

Samsun

Manisa

Diyarbakır

Trabzon

Van

Bursa

Mersin

Muğla

Balıkesir

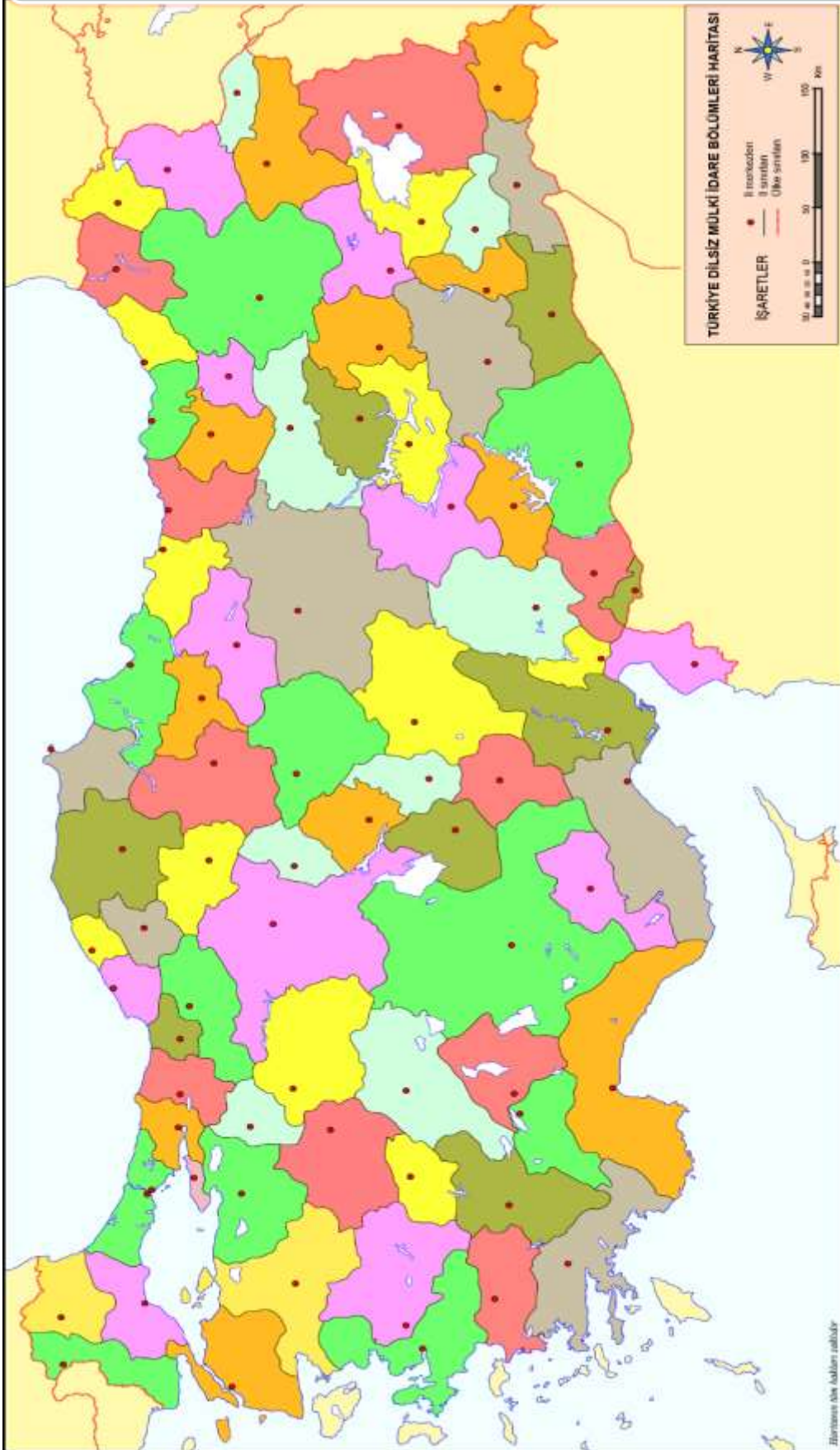
Kastamonu

Adı :
Soyadı:

2. Sınıf Hayat Bilgisi

Ülkemizde Hayat Ülkemiz

İlk haritaya bakarak illerimizi bulunuz ve isimlerini yazınız.



Mersin

Muğla

Balıkesir

Kastamonu

Diyarbakır

Trabzon

Van

Bursa

Antalya

Şanlıurfa

Samsun

Manisa

Konya

Adana

Erzurum

Sivas

Yaşadığımız Şehir

Ankara

İstanbul

İzmir

Adı :
Soyadı:

2. Sınıf
Hayat Bilgisi

Ülkemizde Hayat
Ülkemiz

Türkiye haritasında denizlerin isimlerini yazarak maviye boyayınız.



Türkiye haritasında denizlerin isimlerini yazarak boyayınız.

Ülkemizin Adı :

Ülkemizin Başkenti :

Yaşadığımız İl :

Yaşadığımız İlçe :

Yaşadığımız Mahalle :

Yaşadığımız Sokak :

Yaşadığımız Şehrin Komşuları :

Ülkemizin Üstünde Bulunan Deniz :

Ülkemizin Altında Bulunan Deniz: :

Ülkemizin Sol Tarafında bulunan
Deniz:

Yaşadığınız Yere En Yakın Deniz:

Adı :
Soyadı:

2. Sınıf
Hayat Bilgisi

Ülkemizde Hayat
Ülkemiz

Boşlukları dolduralım.

Karadeniz

kıtalarının

mavi

Türkiye

il



Ülkemizin adıCumhuriyeti'dir.



Ülkemiz Afrika, Avrupa ve Asyabirleştiği yerde bulunur.



Ülkemizde 81 tanevardır.



.....ülkemizin üst kısmında bulunan denizin adıdır.



Haritalarda denizlerrenk ile boyanmıştır.

Doğru mu? Yanlış mı?

- () Haritaya bakarak ülkemizdeki şehirlerin yerlerini öğrenebiliriz.
- () Okulumuz İstanbul ilinde bulunmaktadır.
- () Ülkemizin üç tarafında deniz bulunur.
- () Türkiye Büyük Millet Meclisi, İstanbul'da bulunmaktadır.
- () Bir ülkenin yönetildiği şehre başkent deriz.

Doğru seçeneği işaretleyelim.



1 Yukarıda verilen 1 ve 2 nolu görsellerin isimleri sırası ile aşağıdakilerden hangisidir?

- (A) Küre- Harita
- (B) Atlas - Harita
- (C) Dünya - Küre

2 Ülkemizde kaç tane il bulunmaktadır?

- (A) 81
- (B) 100
- (C) 88

3 Aşağıdakilerden hangisi ülkemizin çevresinde bulunan denizlerden biri değildir?

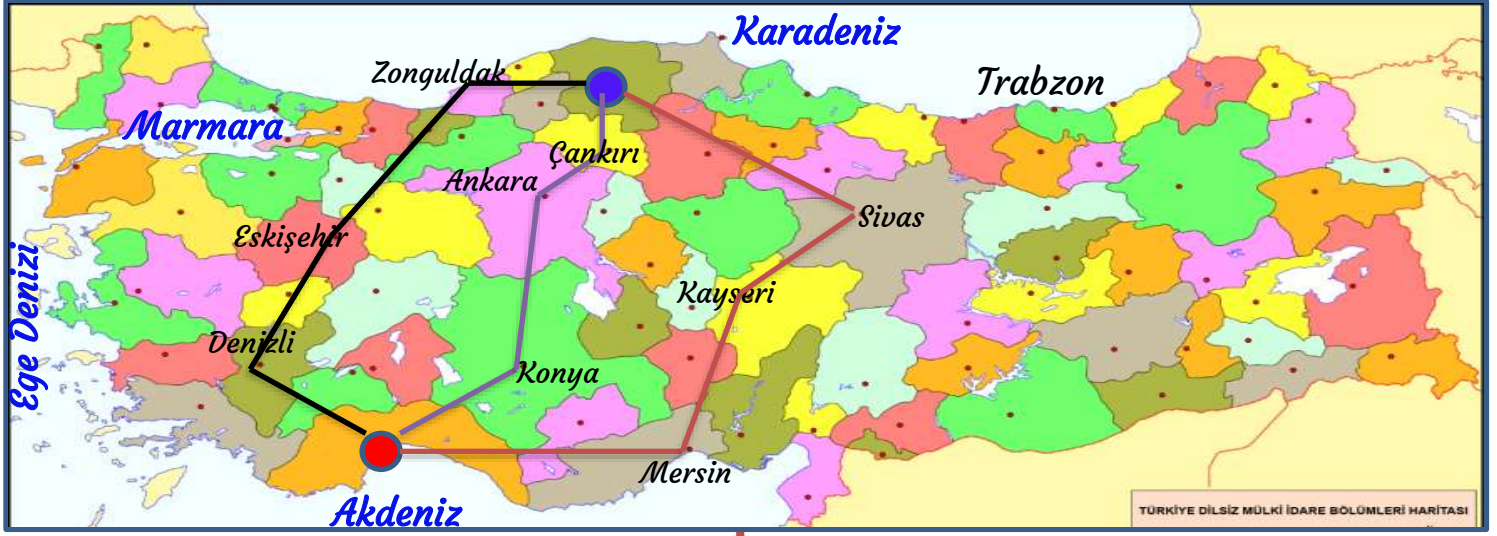
- (A) Karadeniz
- (B) Mavi Deniz
- (C) Akdeniz

Adı :
Soyadı:

2. Sınıf
Hayat Bilgisi

Ülkemizde Hayat
Ülkemiz

Dikkatli okuyalım. Cevabını işaretleyelim. Nedenini açıklayalım.



● Antalya

● Kastamonu

Nisa Antalya'da oturuyor. Yaz tatilinde Kastamonu'da oturan amcasına ziyarete gidecek. Babası ile hangi yoldan gideceğine karar vermek için haritayı incelediler.

Nisa, Anıtkabir'i ve Türkiye Büyük Millet Meclisi'ni de gezmek istiyordu. Babası kabul etti.

Yukarıdaki haritaya göre Nisa amcasına giderken hangi şehirlere uğraması gerekir?

- A** Denizli-Eskişehir-Zonguldak
- B** Konya-Ankara- Çankırı
- C** Mersin- Kayseri - Sivas
- D** Konya- Kayseri - Ankara

Poyraz ve ailesi Mersin'de oturuyorlardı. Tatil için denizyolu ile Trabzon'a gitmeye karar verdiler.

- 1- Karadeniz**
- 2- Marmara Denizi**
- 3- Akdeniz**
- 4- Ege Denizi**

Vapur Trabzon'a giderken yukarıdaki denizlerden geçecektir.

Poyraz ve ailesi Mersin'den Trabzon'a giderken sırası ile hangi denizlerden geçeceklerdir?

- A** 1-2-3-4
- B** 3-4-2-1
- C** 1-4-3-2-
- D** 2-3-1-4-